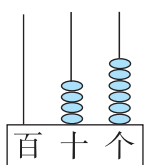


第三单元自测卷

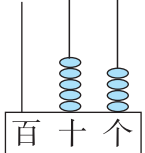
(时间:40 分钟 满分:100 分)

一、填一填。(35 分)

1. 看图填空,并读一读,写一写。

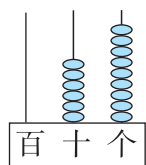


由()个十和()个一组成的,
写作(),读作:()。

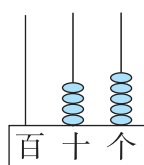


由()个十和()个一组成的,
写作(),读作:()。

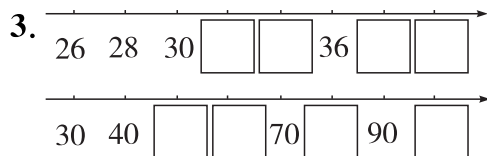
2. 在计数器上画一画,表示下面的数。



69



45



4. 在○里填上“>”“<”或“=”。

42 ○ 39

四十几 ○ 五十

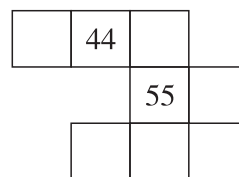
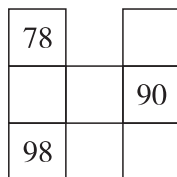
65 ○ 56

九十几 ○ 九十

78 ○ 79

一百 ○ 九十几

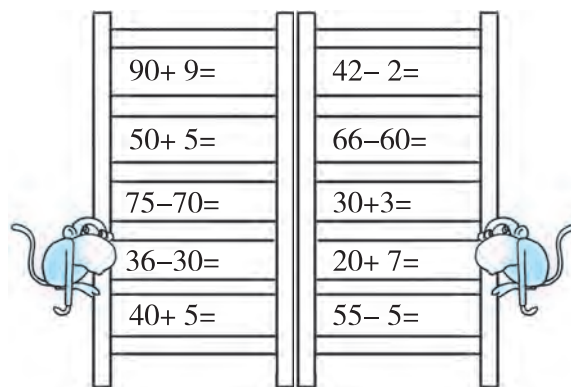
5. 按百数图填数。



6. 王老师批改作业,已经改了 39 本,接下来该改第()本了。

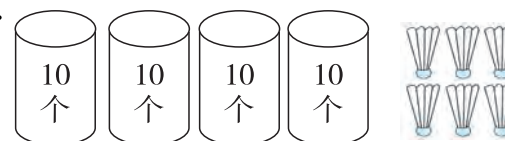
7. 一包核桃 5 个 5 个地数要数 8 次,10 个 10 个地数,要数()次。

二、看谁爬得快!(10 分)



三、看图写算式。(16 分)

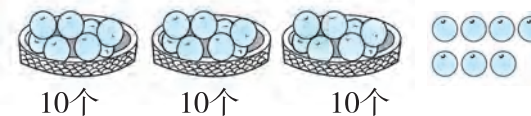
1.



$$\square + \square = \square \quad \square + \square = \square$$

$$\square - \square = \square \quad \square - \square = \square$$

2.

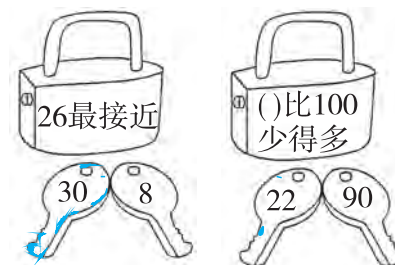


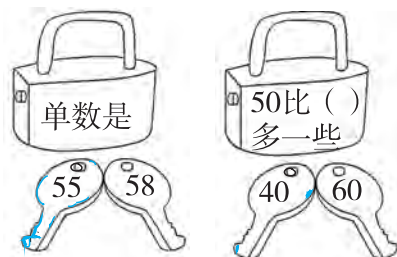
$$\square + \square = \square \quad \square + \square = \square$$

$$\square - \square = \square \quad \square - \square = \square$$

四、按要求完成下列各题。(18 分)

1. 哪把钥匙能开锁? 请涂成红色。





2. 分一分,填一填。

30 75 59 62 90 36 39

(1) 个位和十位上都是单数的数有()。

(2) 十位上是 3 的数有()。


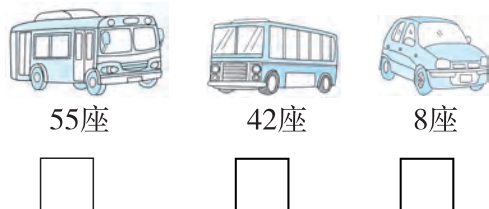
(3) 整十的数有()。

(4) 个位比十位大 3 的数有()。

(5) 将上面的数按从大到小的顺序排一排()。

五、在合适的答案后面画“△”。(12 分)

1. 一(1)班有 45 人去春游,该乘哪辆车?



1支钢笔比它便宜多了。




1 支钢笔多少钱?

70 元 ☐ 15 元 ☐ 90 元 ☐

3.

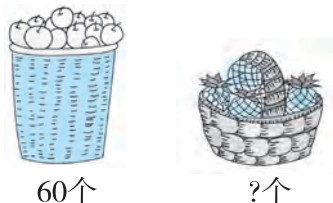
我采了4篮子加3个,每个篮子里有10个。



黑兔采了多少个?

34 个 ☐ 7 个 ☐ 43 个 ☐

4.



苹果比菠萝多得多。



菠萝多少个?

16 个	100 个	50 个
<input type="text"/>	<input type="text"/>	<input type="text"/>

六、解决问题。(9 分)

1.



共折58朵

还剩下多少朵?

$$\square \bigcirc \square = \square (\text{朵})$$

2.



小英

小明

小英拍了多少下?

$$\square \bigcirc \square = \square (\text{下})$$

3. 小象卖盘子。



原有多少个盘子?

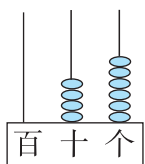
$$\square \bigcirc \square = \square (\text{个})$$

第三单元自测卷

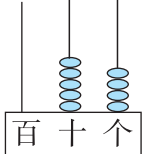
(时间:40 分钟 满分:100 分)

一、填一填。(35 分)

1. 看图填空,并读一读,写一写。

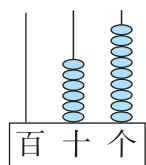


由(4)个十和(6)个一组成的,
写作(46),读作:(四十六)。

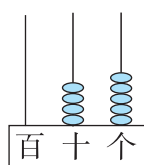


由(5)个十和(4)个一组成的,
写作(54),读作:(五十四)。

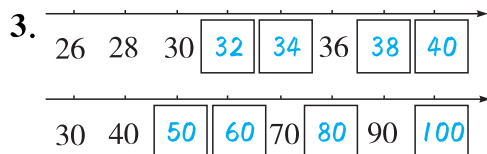
2. 在计数器上画一画,表示下面的数。



69



45



4. 在○里填上“>”“<”或“=”。

42 > 39

四十几 < 五十

65 > 56

九十几 > 九十

78 < 79

一百 > 九十几

5. 按百数图填数。

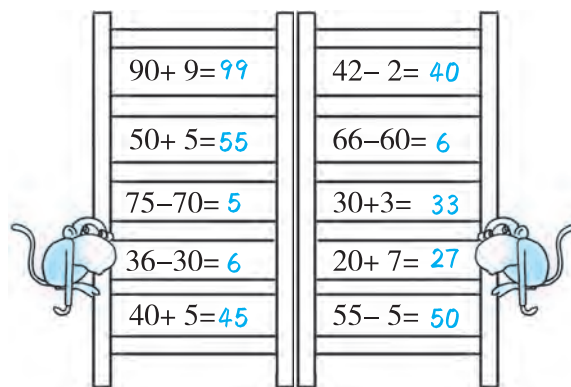
78		80
88	89	90
98		100

43	44	45	
		55	56
	64	65	

6. 王老师批改作业,已经改了 39 本,接下来该改第(40)本了。

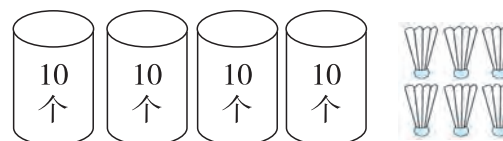
7. 一包核桃 5 个 5 个地数要数 8 次,10 个 10 个地数,要数(4)次。

二、看谁爬得快!(10 分)



三、看图写算式。(16 分)

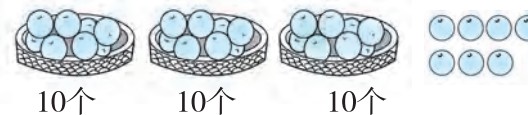
1.



$$40 + 6 = 46 \quad 6 + 40 = 46$$

$$46 - 40 = 6 \quad 46 - 6 = 40$$

2.



$$30 + 7 = 37 \quad 7 + 30 = 37$$

$$37 - 30 = 7 \quad 37 - 7 = 30$$

四、按要求完成下列各题。(18 分)

1. 哪把钥匙能开锁? 请涂成红色。





2. 分一分,填一填。

30 75 59 62 90 36 39

(1) 个位和十位上都是单数的数有(75 59 39)。

(2) 十位上是 3 的数有(30 36 39)。

(3) 整十的数有(30 90)。

(4) 个位比十位大 3 的数有(36)。

(5) 将上面的数按从大到小的顺序排一排(90 > 75 > 62 > 59 > 39 > 36 > 30)。

五、在合适的答案后面画“△”。(12 分)

1. 一(1)班有 45 人去春游,该乘哪辆车?



85 元

1支钢笔比它便宜多了。



1 支钢笔多少钱?

70 元 ☐

15 元 ☒

90 元 ☐

3.

我采了4篮子加3个,每个篮子里有10个。



黑兔采了多少个?

34 个 ☐

7 个 ☐

43 个 ☒

4.



60个



?个

苹果比菠萝多得多。




菠萝多少个?

16 个	100 个	50 个
<input checked="" type="checkbox"/>	<input type="checkbox"/>	<input type="checkbox"/>

六、解决问题。(9 分)

1.



送给幼儿园的小朋友50朵。

共折58朵

还剩下多少朵?

$$58 - 50 = 8 \text{ (朵)}$$

2.

我们一共拍了28下。



小英

小明

我拍了8下。

小英拍了多少下?

$$28 - 8 = 20 \text{ (下)}$$

3. 小象卖盘子。

卖了30个。



还有8个。

原有多少个盘子?

$$30 + 8 = 38 \text{ (个)}$$